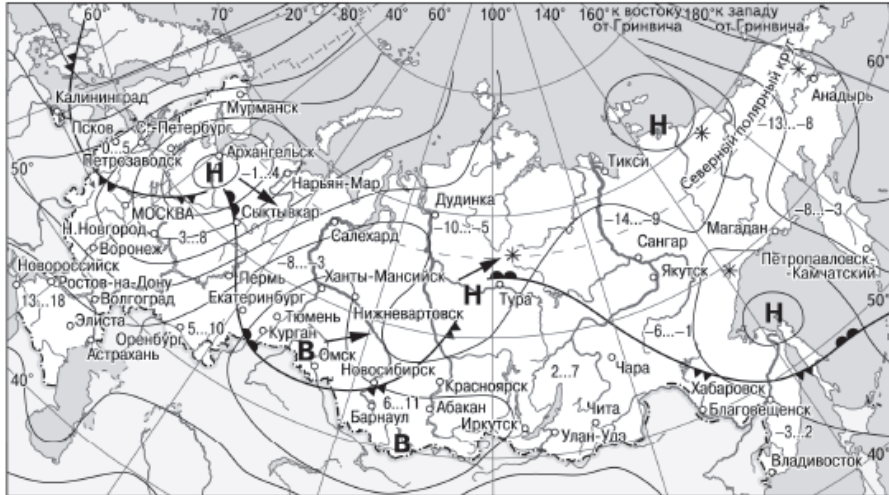




Задание №10

Географические особенности природы и народов Земли

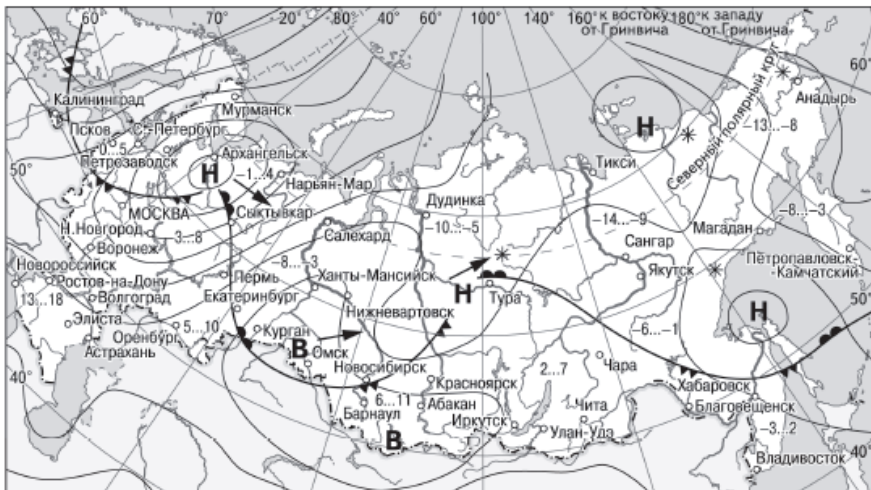
1. Какой из перечисленных городов, показанных на карте, находится в зоне действия антициклона?



- | | | | |
|----------|---|--------|----------------------------|
| В | Область высокого атмосферного давления | | Тёплый атмосферный фронт |
| Н | Область низкого атмосферного давления | | Холодный атмосферный фронт |
| | Направление перемещения циклонов и антициклонов | -3...2 | Температура воздуха (°C) |
| | | * | Снег |

- 1) Архангельск
- 2) Омск
- 3) Магадан
- 4) Якутск

2. Какой из перечисленных городов, показанных на карте, находится в зоне действия циклона?

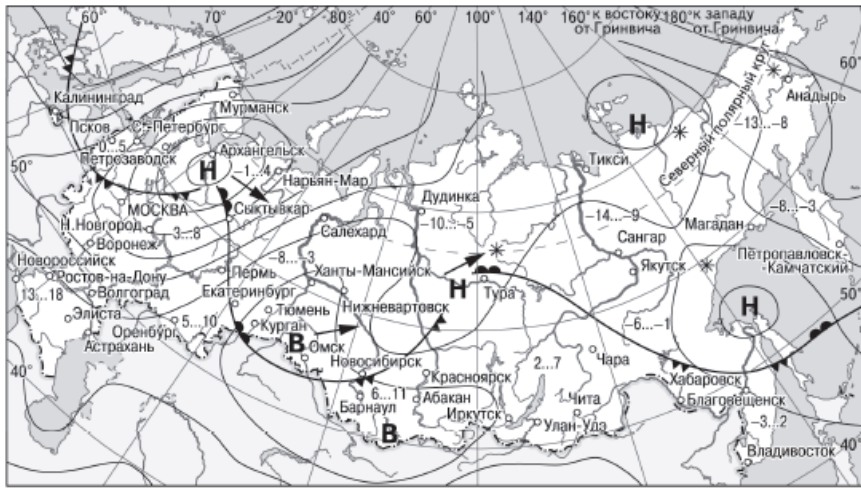


- | | | | |
|----------|---|--------|----------------------------|
| В | Область высокого атмосферного давления | | Тёплый атмосферный фронт |
| Н | Область низкого атмосферного давления | | Холодный атмосферный фронт |
| | Направление перемещения циклонов и антициклонов | -3...2 | Температура воздуха (°C) |
| | | * | Снег |

- 1) Архангельск
- 2) Омск
- 3) Новосибирск

4) Иркутск

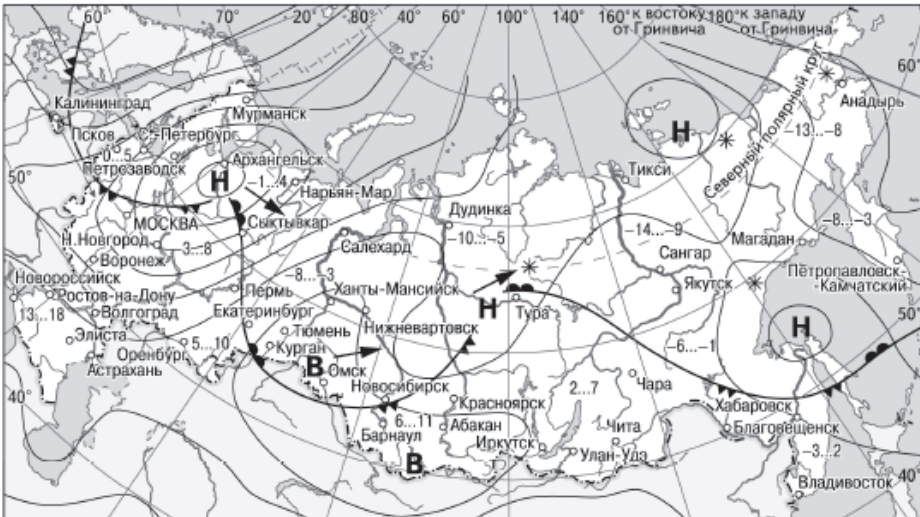
3. Какой из перечисленных населённых пунктов, показанных на карте, находится в зоне действия антициклона?



- | | | | |
|----------|---|--------|----------------------------|
| В | Область высокого атмосферного давления | | Тёплый атмосферный фронт |
| Н | Область низкого атмосферного давления | | Холодный атмосферный фронт |
| | Направление перемещения циклонов и антициклонов | -3...2 | Температура воздуха (°C) |
| | | * | Снег |

- 1) Мурманск
- 2) Новосибирск
- 3) Тикси
- 4) Магадан

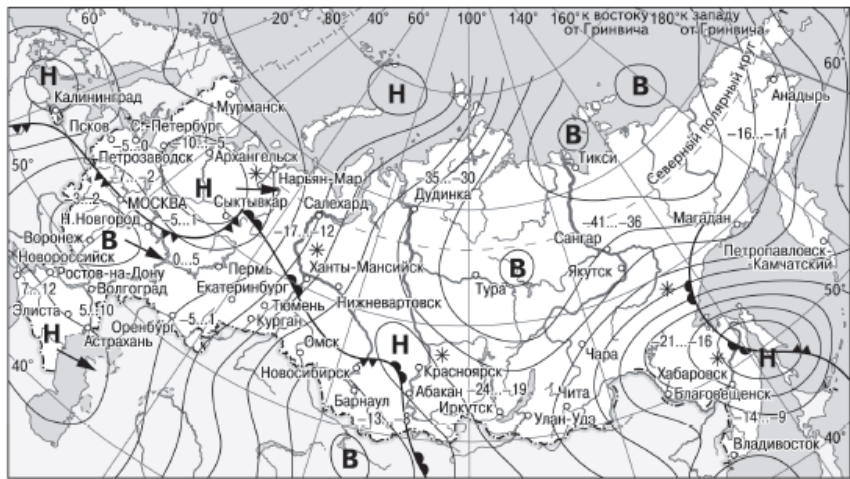
4. Какой из перечисленных городов, показанных на карте, находится в зоне действия циклона?



- | | | | |
|----------|---|--------|----------------------------|
| В | Область высокого атмосферного давления | | Тёплый атмосферный фронт |
| Н | Область низкого атмосферного давления | | Холодный атмосферный фронт |
| | Направление перемещения циклонов и антициклонов | -3...2 | Температура воздуха (°C) |
| | | * | Снег |

- 1) Барнаул
- 2) Курган
- 3) Нарьян-Мар
- 4) Новосибирск

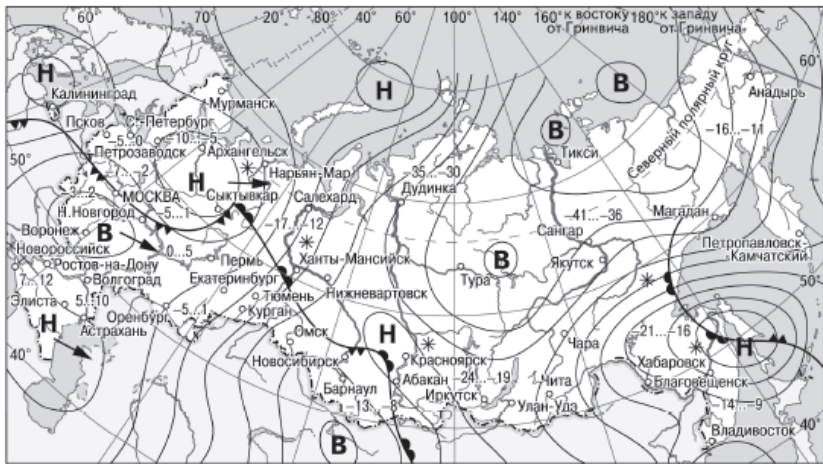
5. Какой из перечисленных городов, показанных на карте, находится в зоне действия антициклона?



- | | | | |
|----------|---|-----------|----------------------------|
| В | Область высокого атмосферного давления | | Тёплый атмосферный фронт |
| Н | Область низкого атмосферного давления | | Холодный атмосферный фронт |
| | Направление перемещения циклонов и антициклонов | -35...-30 | Температура воздуха (°C) |
| | | * | Снег |

- 1) Архангельск
- 2) Воронеж
- 3) Красноярск
- 4) Улан-Удэ

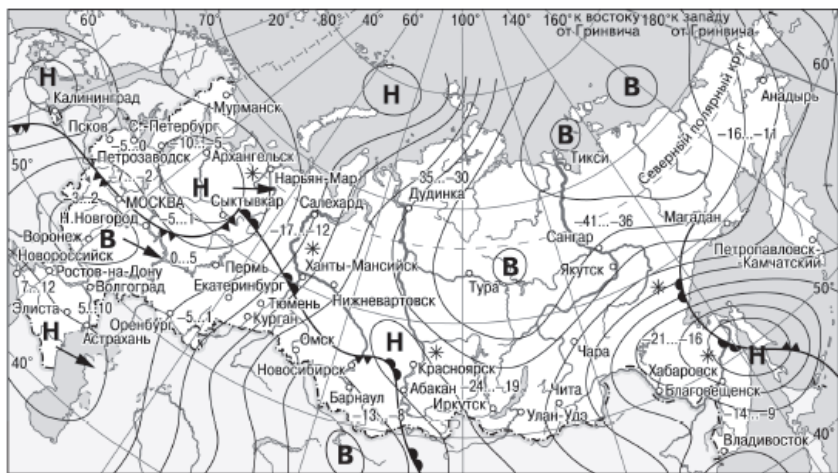
6. Какой из перечисленных населённых пунктов, показанных на карте, находится в зоне действия циклона?



- | | | | |
|----------|---|-----------|----------------------------|
| В | Область высокого атмосферного давления | | Тёплый атмосферный фронт |
| Н | Область низкого атмосферного давления | | Холодный атмосферный фронт |
| | Направление перемещения циклонов и антициклонов | -35...-30 | Температура воздуха (°C) |
| | | * | Снег |

- 1) Воронеж
- 2) Барнаул
- 3) Тура
- 4) Красноярск

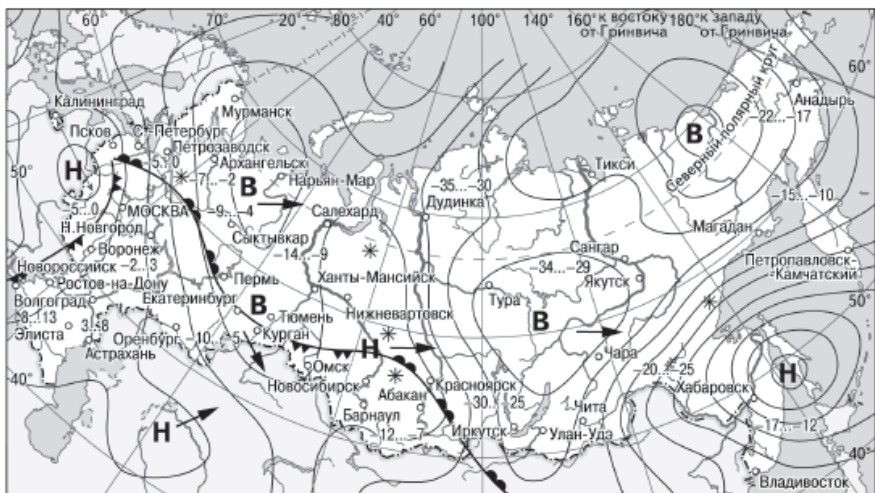
7. Какой из перечисленных населённых пунктов, показанных на карте, находится в зоне действия циклона?



- | | |
|---|------------------------------------|
| В Область высокого атмосферного давления | Тёплый атмосферный фронт |
| Н Область низкого атмосферного давления | Холодный атмосферный фронт |
| Направление перемещения циклонов и антициклонов | -35...-30 Температура воздуха (°C) |
| | * Снег |

- 1) Воронеж
- 2) Тикси
- 3) Хабаровск
- 4) Якутск

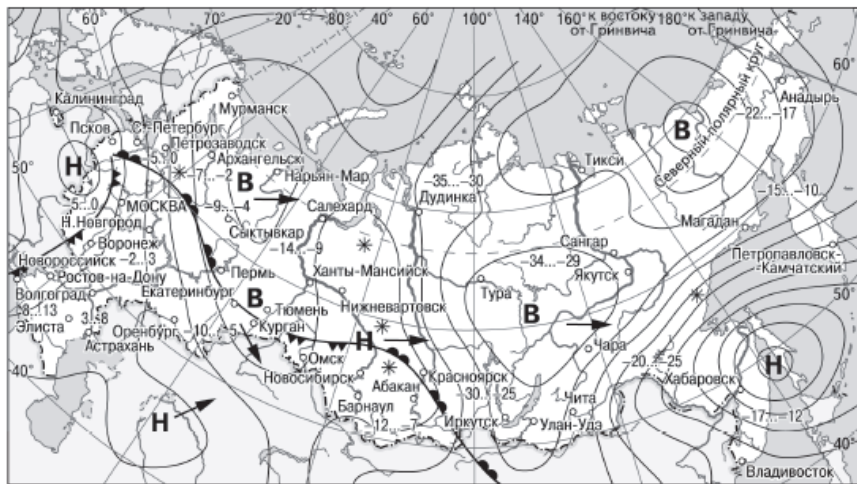
8. Какой из городов, показанных на карте, находится в зоне действия антициклона?



- | | |
|---|------------------------------------|
| В Область высокого атмосферного давления | Тёплый атмосферный фронт |
| Н Область низкого атмосферного давления | Холодный атмосферный фронт |
| Направление перемещения циклонов и антициклонов | -35...-30 Температура воздуха (°C) |
| | * Снег |

- 1) Нарьян-Мар
- 2) Псков
- 3) Москва
- 4) Хабаровск

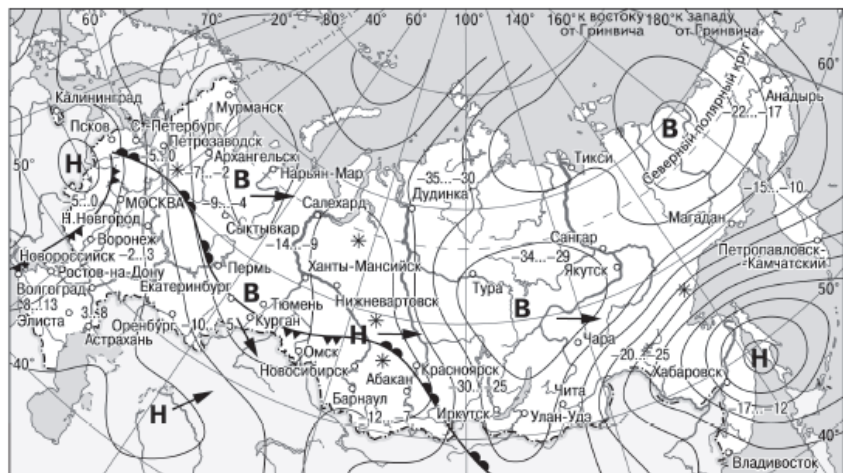
9. Какой из перечисленных городов, показанных на карте, находится в зоне действия циклона?



- В** Область высокого атмосферного давления
- Н** Область низкого атмосферного давления
- Направление перемещения циклонов и антициклонов
- Тёплый атмосферный фронт
- Холодный атмосферный фронт
- 35...-30 Температура воздуха (°C)
- * Снег

- 1) Мурманск
- 2) Нарьян-Мар
- 3) Хабаровск
- 4) Якутск

10. Какой из перечисленных городов, показанных на карте, находится в зоне действия антициклона?



- В** Область высокого атмосферного давления
- Н** Область низкого атмосферного давления
- Направление перемещения циклонов и антициклонов
- Тёплый атмосферный фронт
- Холодный атмосферный фронт
- 35...-30 Температура воздуха (°C)
- * Снег

- 1) Астрахань
- 2) Воронеж
- 3) Петропавловск-Камчатский
- 4) Якутск